

興德學校

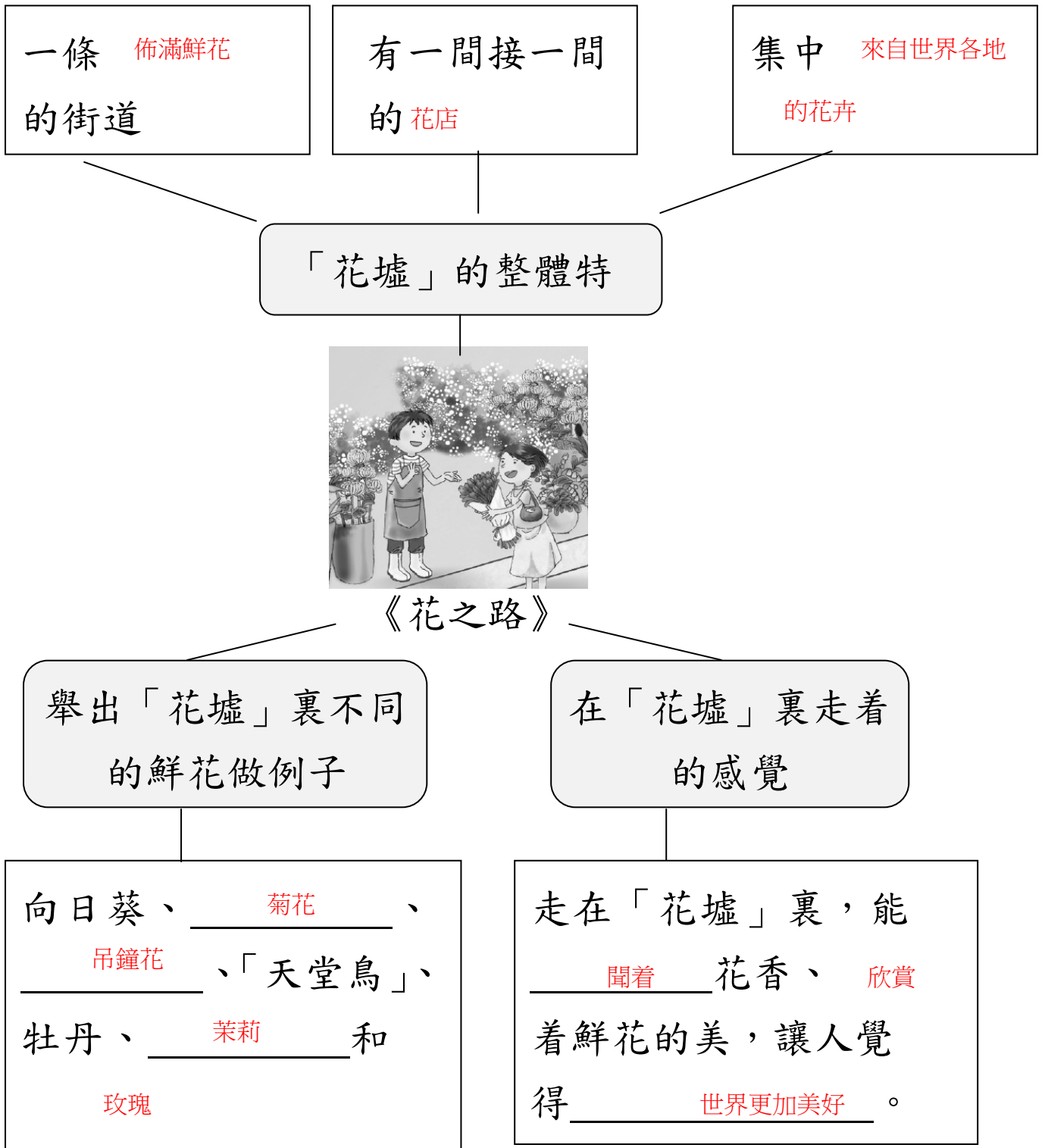
4月28日 三年級 中文科工作紙 (答案)

姓名： _____ () 成績： _____

班別： _____ 日期： _____

三下二 單元六 第十二課 《花之路》

(一) 根據課文內容，完成下面的概念圖。



一條 佈滿鮮花
的街道

有一間接一間
的花店

集中 來自世界各地
的花卉

「花墟」的整體特



《花之路》

舉出「花墟」裏不同的鮮花做例子

在「花墟」裏走着的感覺

向日葵、菊花、
吊鐘花、「天堂鳥」、
牡丹、茉莉和
玫瑰

走在「花墟」裏，能
聞着花香、欣賞
着鮮花的美，讓人覺
得世界更加美好。

(二) 細閱文章內容，然後回答問題。

元朗遊

我從沒去過元朗，所以央求爸爸媽媽帶我去逛逛。這個星期六，我們一家便去了「元朗遊」。

爸爸駕車載着我們去到元朗，找了一個地方泊車，然後一家人隨意地逛着。元朗位於新界的西北面，三面環山，地勢平坦，而且大自然區域很多，所以四周都可

以看到青山綠樹，空氣十分清新。

走着走着，我們來到了元朗大馬路，忽然聞到一陣香噴噴的糕餅氣味，原來前面就是老字號的恆香餅家。我在餅家門口停住腳步，瞅着櫥櫃裏一個個老婆餅，忍不住嚥了一下口水。爸爸見我饞嘴的樣子，不禁笑了起來，他掏錢買了一盒老婆餅，交到我手裏。我急不及待地打開盒子，拿出一個，哇，剛出爐的，還有點燙手呢！我先遞了一個給媽媽，又遞了一個給爸爸，然後自己拿了一個放進嘴裏，香香的，軟軟的，甜甜的，味道好極了。怪不得它能成為地道的著名特產呢！

爸爸特地帶我們乘搭輕鐵，從元朗到天水圍去。我坐在晃動的車廂裏，看着外面的風景慢慢掠過，非常有趣。輕鐵這種交通工具就如港島的電車一樣，為屯門和元朗帶來了

不一樣的風情。

我本來很想去看看位於區內的屏山文物徑，還想去遊遊米埔自然保護區，但是時間不夠，只好找機會專程去了。

元朗遊

參考答案

- 1 B
- 2 A
- 3 B
- 4 C

1 下列哪一項是第二段的段意？

- A 說明元朗的位置
- B 介紹元朗的地理特點
- C 交代「我們」的遊覽路線
- D 描述「我們」看到的景色

2 作者描寫老婆餅時，沒有運用以下哪一種感官描寫？

- A 視覺
- B 味覺
- C 嗅覺
- D 觸覺

3 「我」描寫甚麼事物時運用了嗅覺描寫？

- A 四周的空氣
- B 糕餅的氣味
- C 大自然的氣息
- D 輕鐵的汽油味

4 根據文章內容，下列哪一項描述不正確？

- A 元朗有很多大自然區域。
- B 「我」很想參觀屏山文物徑。
- C 「我們」乘搭輕鐵前往元朗。
- D 「我們」在元朗吃著名的老婆餅。

Hing Tak School
P.3 English Worksheet (48)

(Answer Key)

Class: P.3 ()

Grade: _____

Name : _____ ()

Date : 28th April, 2020

What are the children good at? Finish the sentences with the given words.
Use the correct form of the verbs.

do sums	run	swim	play computer games	dance
sing	draw pictures	write English poems		

1.



(Joey)

She is good at singing.

2.



(Gary)

He is good at playing computer games.

3.



(Sam and Fiona)

They are good at running.

4.



(Alan and I)

We are good at drawing pictures.

5.



They are good at swimming.

(My cousins)

6.



He is good at writing English poems.

(My brother)

7.



They are good at dancing.

(Mr and Mrs Lee)

8.



I am good at doing sums.

(I)

興德學校

4月28日 三年級 數學科工作紙

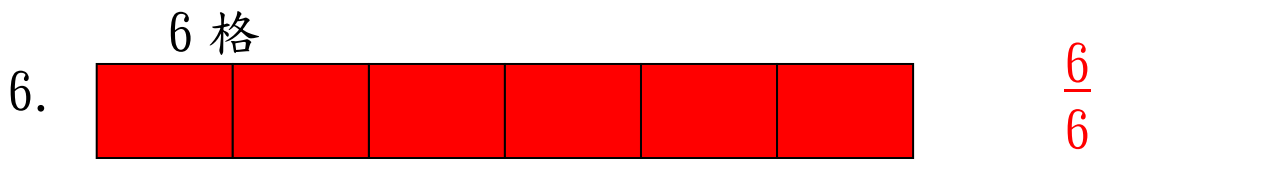
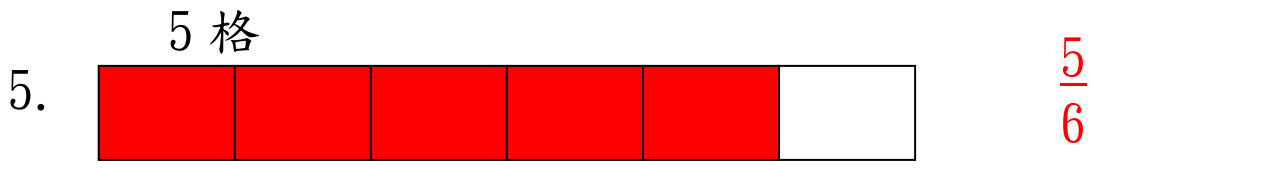
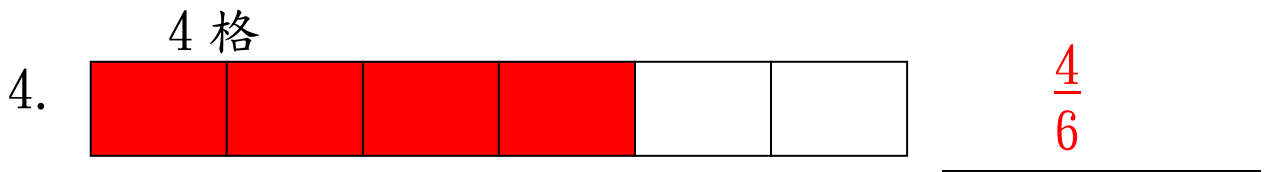
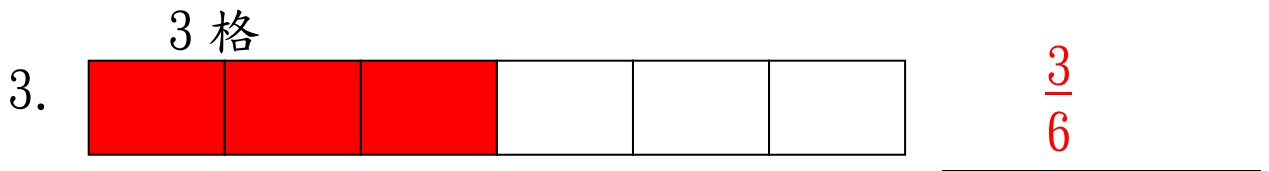
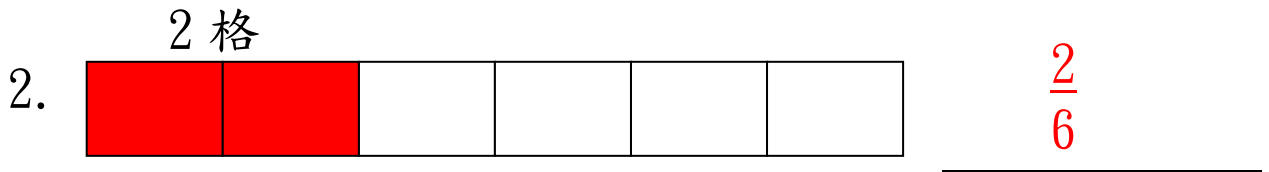
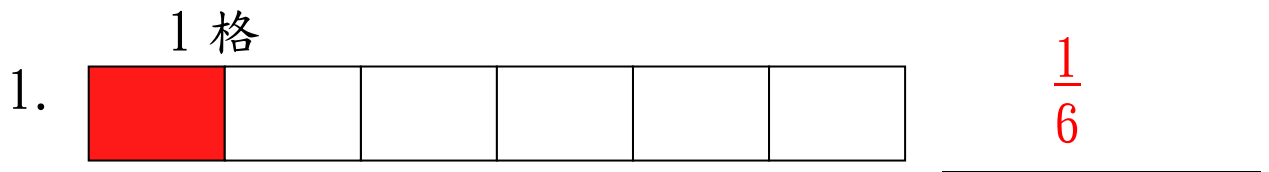
3下B冊 十三. 分數的認識(一)

答案

姓名： _____ () 成績： _____

班別： _____ 日期： 28-4-2020

(一) 請按指示把適當的部份填色，並在橫線上寫出着色部份佔全圖的幾分之幾。

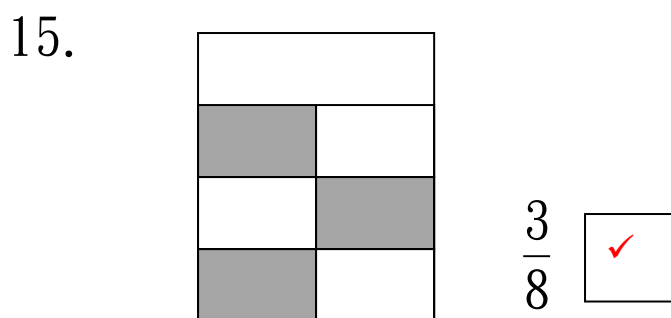
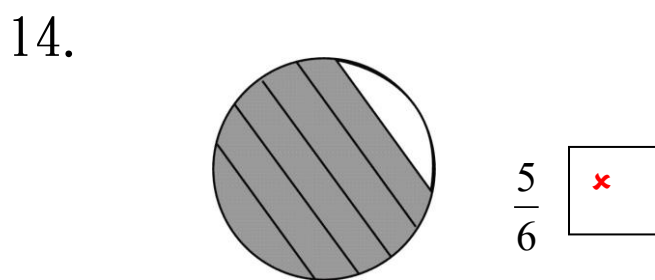
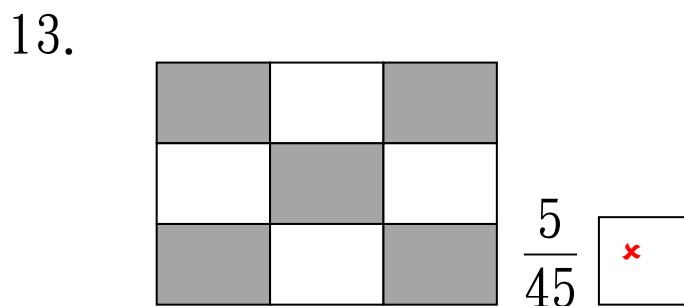
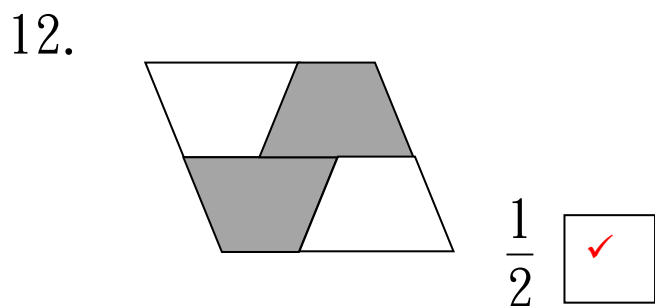
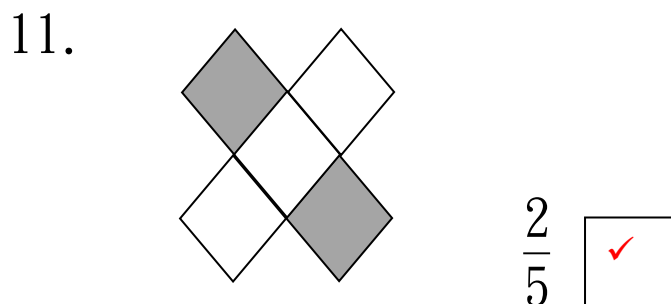
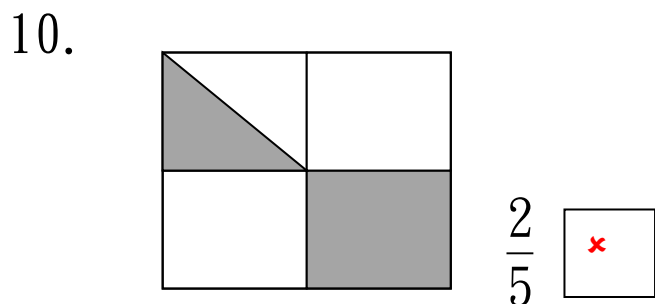
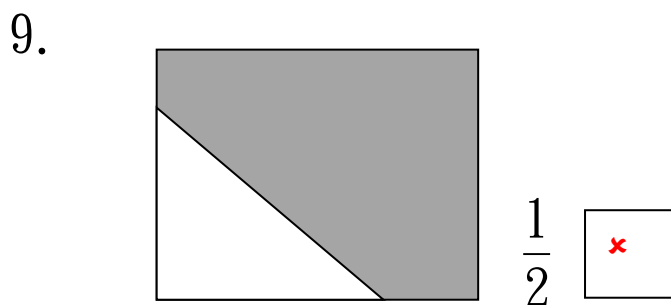
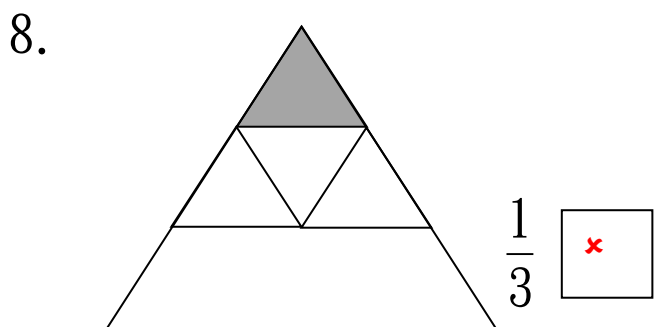


7. 考考你：

試列舉四個數值等於 1 的分數：

$$1 = \frac{2}{2} = \frac{(3)}{(3)} = \frac{(4)}{(4)} = \frac{(5)}{(5)} = \frac{(21)}{(21)} \quad \text{或其他合理答案}$$

(二) 下面各圖着色的部份/數量與表示的分數是否相符？是的在方格內加✓，不是的加✕。



興德學校

4月28日三年級 常識科工作紙(答案)
第六冊 第一課 香港特別行政區的成立

姓名：_____ ()

成績：_____

班別：_____

日期：28-4-2020

(一) 練習

辨認國徽、區徽的特徵

試分辨以下兩幅圖案，哪幅是國徽？哪幅是區徽？並把兩者的特徵圈出來。



1. 上圖是(**國徽** / 區徽)。
2. 圖案有兩種顏色，分別是(**金色** / **紅色** / 白色)。
3. 組成圖案的事物有(**五顆星** / **天安門** / **麥稻穗** / 大紅花 / **齒輪** / 人民大會堂)。

1. 上圖是(國徽 / **區徽**)。
2. 圖案有兩種顏色，分別是(金色 / **紅色** / **白色**)。
3. 組成圖案的事物是(**洋紫荊** / 荷花)。
4. 每片花瓣上有一顆(太陽 / 月亮 / **星**)。

學生自評(圈一圈)

我覺得自己這次校本工作紙的表現：

☺十分良好 / ☺良好 / ☹有待改善