

興德學校

4月27日 三年級 中文科工作紙

姓名：_____ () 成績：_____

班別：_____ 日期：_____


三下二 單元六 第十二課 《花之路》


(一) 選出適當的詞語，填寫在_____上。

購買 小巧 延伸 街道 集中
撲鼻 花卉 層層疊疊 小心翼翼

- 1 春天來了，園圃裏的_____盛開，萬紫千紅，吸引不少市民拍照留念。
- 2 這些舞蹈員的裙子縫上了許多_____的鈴鐺，當她們擺動身體時，鈴鐺會發出悅耳的聲音。
- 3 政府為了美化市容，於是在_____的欄杆上放置一些盆栽。
- 4 為甚麼一陣陣清幽的香氣_____而來？原來媽媽在客廳的花瓶裏插了一束百合花。
- 5 我和媽媽一起到超級市場_____日用品和食物。我從冰箱裏_____地挑選了一盒雞蛋，害怕一不小心摔破它們。



(二) 看看下面的字，圈出屬「衣(衤)」部的字，然後在  內填寫兩個「衣(衤)」部的字。



(三) 下面的句子都運用了擬物的手法，分辨哪些句子把人當作物來寫；哪些把物當作物來寫，把代表的英文字母填寫在適當的□內。

A	月亮的光輝傾瀉地上，令地上的萬物如鋪上一層銀白色的霜。
B	這些醫生義工放棄安穩的工作，到戰地裏救死扶傷，不惜燃燒自己而去照亮別人的生命，真令人敬佩。
C	病毒對人類張牙舞爪，只要我們稍一鬆懈，便會染病。
D	在老師悉心的灌溉下，我們茁壯成長，不但增長了知識，還學會了待人接物的態度。

擬物手法	
把人當作物來寫	把物當作物來寫







Class: P.3 ()

Grade: _____

Name : _____ ()

Date : 27th April, 2020

Complete the conversation with 'How much', 'What', 'When', 'Why' or 'Where'.

<p>1</p> <p>_____ is your birthday?</p>  <p>It's on the fourth of April.</p>	<p>2</p> <p>_____ do you want to do on your birthday?</p>  <p>I want to watch a film.</p>
<p>3</p> <p>_____ do you want to watch the film?</p>  <p>I want to watch it because I like the actors.</p>	<p>4</p> <p>_____ is the cinema?</p>  <p>It's near my home.</p>
<p>5</p> <p>_____ is a ticket?</p>  <p>It's about fifty dollars.</p>	<p>6</p> <p>_____ birthday present do you want to have?</p>  <p>I want to have a teddy bear.</p>

興德學校

4月27日 三年級 數學科工作紙

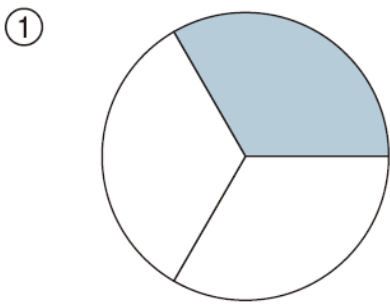
3下B冊 十三. 分數的認識(一)

姓名：_____ () 成績：_____

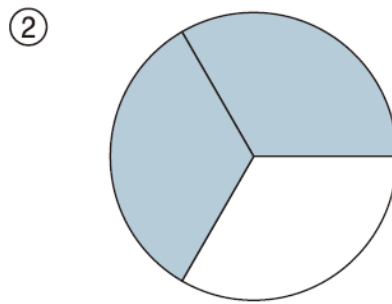
班別：_____ 日期：27-4-2020

(一) 練習

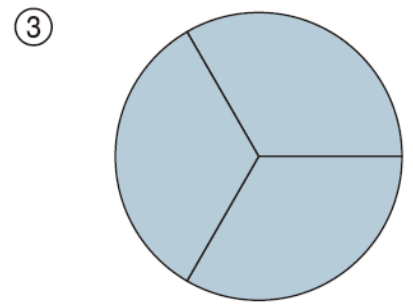
用分數表示着色部分佔全圖的多少，並寫出它的讀法。



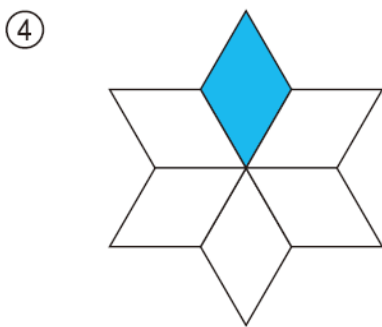
寫作 _____
讀作 _____



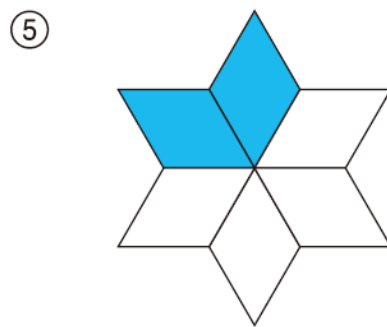
寫作 _____
讀作 _____



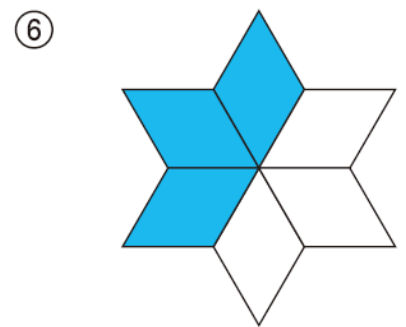
寫作 _____
讀作 _____



寫作 _____
讀作 _____

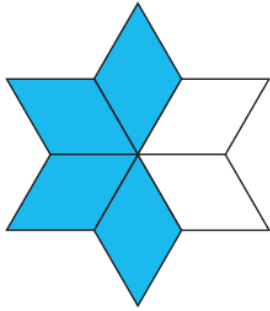


寫作 _____
讀作 _____



寫作 _____
讀作 _____

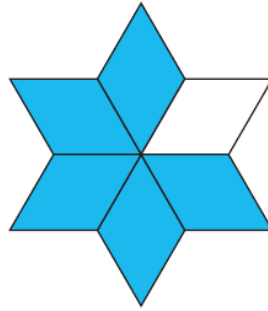
⑦



寫作 _____

讀作 _____

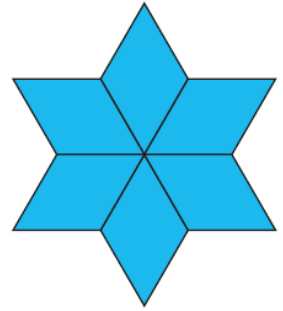
⑧



寫作 _____

讀作 _____

⑨



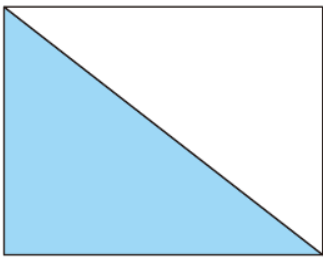
寫作 _____

讀作 _____


(二)

如果着色部分是佔全圖的 $\frac{1}{2}$ ，在空格內加「✓」，否則加「x」。

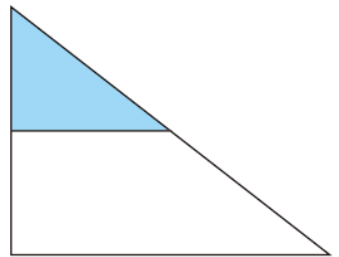
①



②

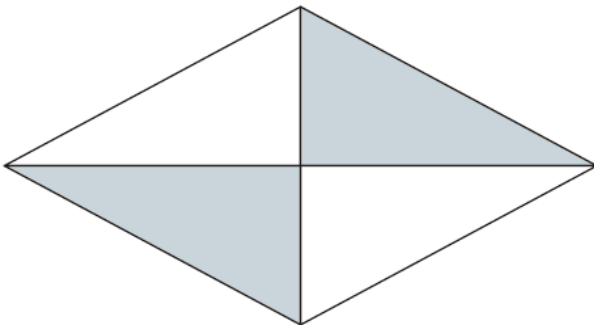


③



用分數表示着色部分佔全圖的多少，並寫出它的讀法。

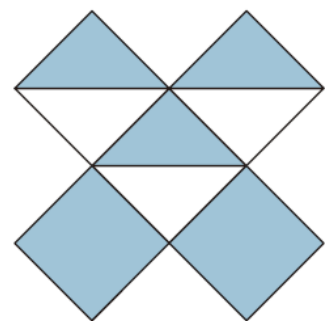
④



寫作 _____

讀作 _____

⑤



寫作 _____

讀作 _____

興德學校

4月27日三年級 常識科工作紙

第六冊 第一課 香港特別行政區的成立

姓名：_____ ()

成績：_____

班別：_____

日期：27-4-2020

(一) 練習

(甲) 供詞填充：選出適當的字詞填在_____上。

星	荷花	香港	中國
---	----	----	----

1. 中國國旗以紅色為主，有五顆_____，其中一比其餘的大。
2. 香港區徽上的洋紫荊花，代表_____。

(乙) 選擇題：把適當的英文字母填在 () 內

1. 以下哪一年是英國強迫中國租借新界為期99年？

- A. 1842年。
- B. 1860年。
- C. 1898年。
- D. 1949年。 ()

2. 以下哪一年是中國和英國簽署《中英聯合聲明》？

- A. 1860年。
- B. 1949年。
- C. 1984年。
- D. 1997年。 ()

3. 以下哪一項是香港的象徵？

- A. 中國國旗。
- B. 中國國徽。
- C. 澳門區旗。
- D. 香港區旗。 ()

4. 以下哪一項不是參加升旗禮時的應有表現？

A. 面向國旗。


B. 四處張望。

C. 肅立致敬。

D. 保持嚴肅態度。

()

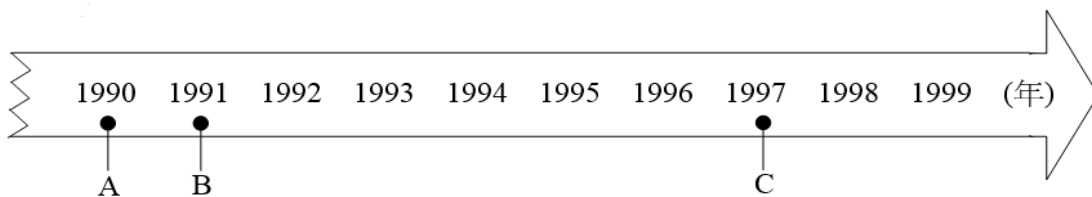
(丙) 生活情景題：把正確答案圈出來。



1. 清政府在上圖提及的那場戰爭中戰敗，香港哪一地方便由英國管治？

(香港島 / 新界 / 九龍半島)

2. 觀看時間線，香港在哪一年回歸中國？



(年份 A / 年份 B / 年份 C)

3. 甚麼是《基本法》？

《基本法》是 (香港回歸中國前的基本方針政策 /

香港特別行政區的基本方針政策 /

為了慶賀香港回歸中國而印製的書籍)。