

姓名：\_\_\_\_\_ ( )

成績：答案版

班別：\_\_\_\_\_

日期：\_\_\_\_\_ 四月二十四日

## 小三下 第二冊 單元六 第十一課《香港的「海上鮮」》

一 選出適當的詞語，代替句子中畫有雙橫線的文字，填寫在  內。

獨特／經營／舊日／停泊／挑選

1 由於海水的侵蝕，令這裏的岸邊形成了特別、獨有的地貌。

獨特

2 颱風來襲時，漁船都停靠在避風塘內暫避颱風。

停泊

3 這裏很久之前只是一處停泊小艇的淺灘；填海後，才漸漸發展為商業中心。

舊日

4 這間快餐店因為籌劃及管理不善，已於早幾天結業了。

經營

5 書店裏的書五花八門，媽媽從眾多的書籍中選擇了幾本故事書，打算送給康康表弟。

挑選

二 以下哪兩個字可以加上「舟」，組成另一個字？填寫在 \_\_\_\_\_ 上，然後查一查字典，完成下表。

男 亢 自 倉 言

「舟」部的字	字義
<u>航</u>	船在水上行駛或飛機在天空飛行。
<u>艙</u>	船或飛機內可以容納人或貨物的地方。

 重點重溫


「舟」部的字一般與船隻有關，例如：

艇

船



看看圖畫，運用「**每當**……**就**……」的句式，完成句子。




### 重點重溫


「**每當**……**就**……」的前分句表示**情況**，後分句表示在這個情況下出現的**行為或結果**。

**例** 每當有客人來，船家**就**會熱情地展示各種海產。

1 每當哥哥經過模型店，就會 走進去看看新款的模型 。



2 每當早上繁忙時間，趕着上班的乘客 **就**會 擠滿地鐵的車廂 。



3 每當嘉儀感到煩躁時，就會聽音樂 。

Hing Tak School  
P.3 English Worksheet (46)

Answer Key

Class: P.3 ( )

Grade: \_\_\_\_\_

Name : \_\_\_\_\_ ( )

Date : 24<sup>th</sup> April, 2020

What do the people like doing in their spare time? Finish the sentences with the names of their favourite activities. Use the correct form of the verb 'like'.


1.



(Alex)

Alex likes playing the piano.

2.



(I)

I like making models.

3.



(Miss Lo)

Miss Lo likes taking photos.

4.



(Mum and Dad)

Mum and Dad like dancing.

5.



(Zita)

Zita likes listening to music.

6.



Mr Mo is a PE teacher.

He likes running.

(Mr Mo)

7.



You like going hiking.

( You )

8.



Roy and I like swimming.

( Roy and I )

興德學校

4月24日 三年級 數學科工作紙

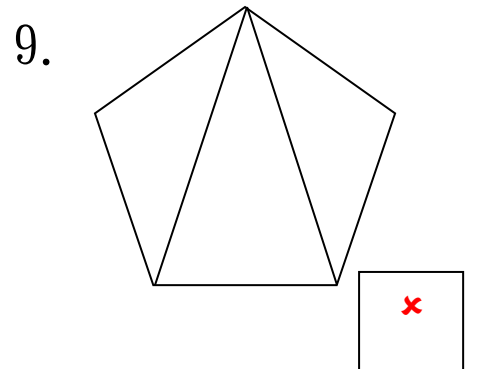
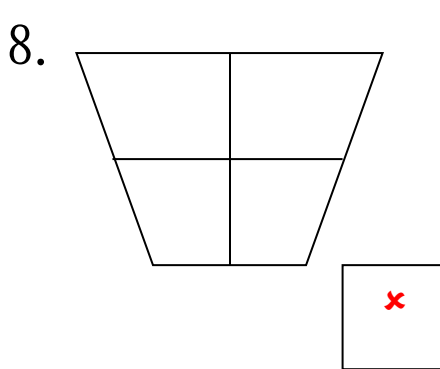
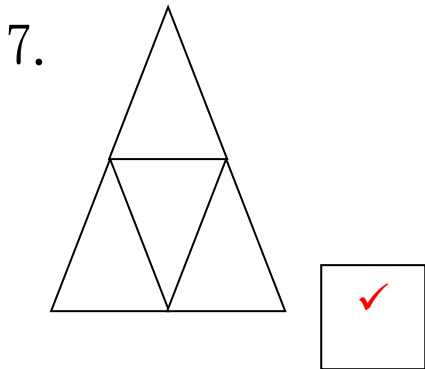
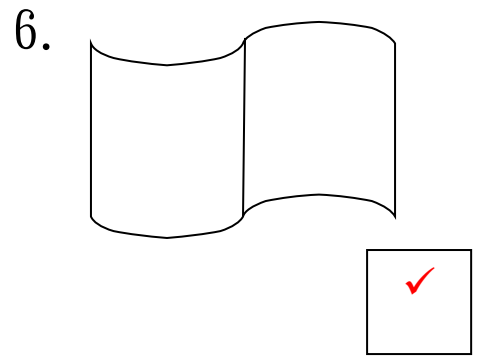
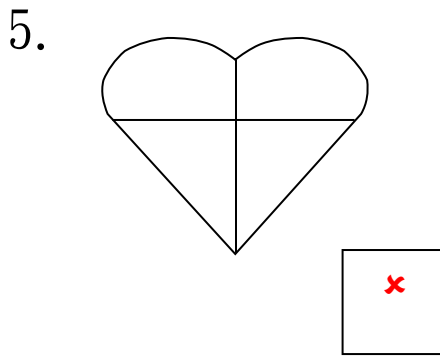
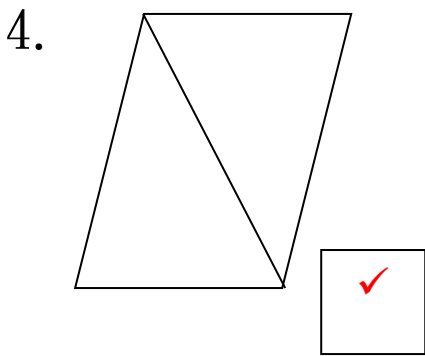
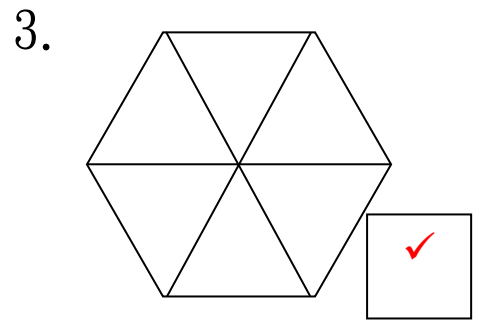
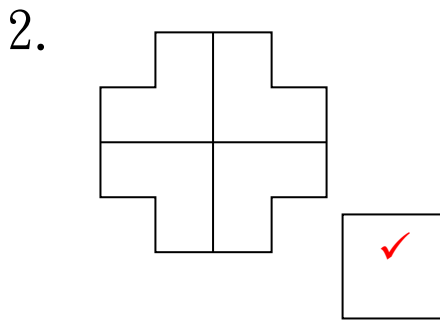
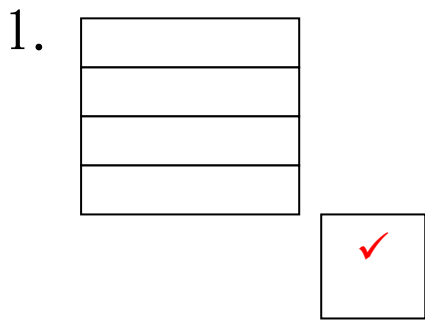
3下B冊 十三. 分數的認識(一)

答案

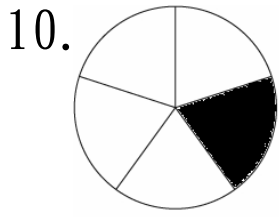
姓名： \_\_\_\_\_ ( ) 成績： \_\_\_\_\_

班別： \_\_\_\_\_ 日期： 24-4-2020

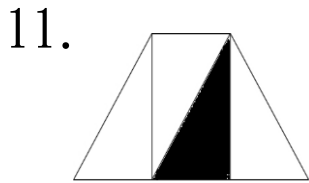
(一) 辨別:把下列等分的圖形加✓，不是等分的加上×。



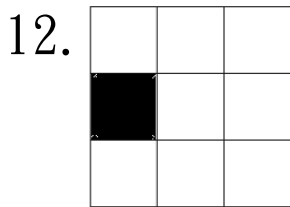
(二) 寫出着色部分佔全圖的幾分之幾。



這個圖形平均分成 5 份，  
其中 1 份佔全圖的 五 分之 一。



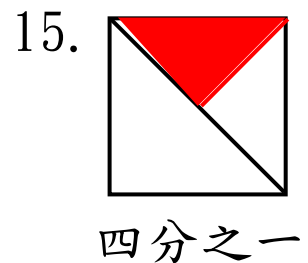
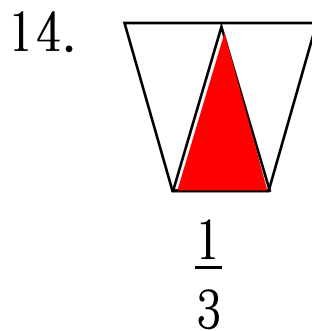
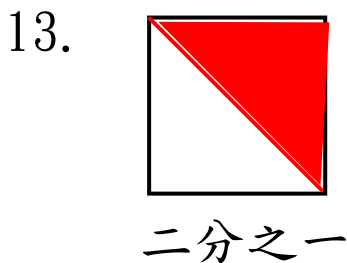
這個圖形平均分成 4 份，  
其中 1 份佔全圖的 四 分之 一。



這個圖形平均分成 9 份，  
其中 1 份佔全圖的 九 分之 一。

(三) 依題目所示，在圖中填上顏色。(必須填滿)

(請加線來等分圖形)



興德學校

4月24日三年級 常識科工作紙(答案)  
第六冊 第一課 香港特別行政區的成立

姓名：\_\_\_\_\_ ( ) 成績：\_\_\_\_\_

班別：\_\_\_\_\_ 日期：24-4-2020

(一) 練習

(甲) 供詞填充：選出適當的字詞填在\_\_\_\_\_上。

香港島	法國	九龍半島	回歸紀念日	基本法
-----	----	------	-------	-----

1. 1860年，英國和法國發動英法聯軍之役，清政府戰敗，把九龍半島給予英國管治。

2. 《基本法》是對香港特別行政區的基本方針政策。

3. 每年的7月1日是香港回歸紀念日。

(乙) 選擇題：把適當的英文字母填在 ( ) 內

1. 以下哪一項事物不能反映英國曾經管治香港？

- A. 英式建築。
- B. 以港督命名的街道名稱。
- C. 有女皇肖像的錢幣。
- D. 以香港的市花作為圖案的錢幣。 ( D )

2. 自以下哪一場戰爭開始，英國逐步擴大在香港的管治範圍？

- A. 鴉片戰爭。
- B. 第一次世界大戰。
- C. 抗日戰爭。
- D. 韓戰。 ( A )



3. 2020年7月1日是香港回歸中國多少週年？



- A. 3週年。
- B. 13週年。
- C. 23週年。
- D. 33週年。 ( C )

4. 以下哪一項關於香港特別行政區區旗的描述是正確的？

- A. 區旗上有荷花圖案。
- B. 區旗上有五星花蕊的紫荊花。
- C. 區旗的面積比國旗的大。
- D. 區旗上的紫荊花是紫色的。 ( B )

(丙) 生活情景題：把正確答案圈出來。

1. 當中國國旗和香港區旗同時懸掛時，應該怎樣擺放？  
把答案圈起來。



- 1. 圖 A，( i / **ii** ) 是中國國旗；( **i** / ii ) 是香港區旗。
- 2. 圖 B，( **i** / ii ) 是中國國旗；( i / **ii** ) 是香港區旗。
- 3. 在香港，哪裏可以看到中國國旗及香港區旗同時懸掛？  
(答案可以多於一個。)

( **政府合署** / 富泰商場 / 太空館 / **金紫荊廣場** )