

興德學校

4月23日 四年級 中文科工作紙

連詞(一)《躍思》練習 22

姓名： _____ ()

成績： _____

班別： _____

日期： 23-4-2020

(一) 知識學習

甚麼是連詞？

1. 是用來連接詞與句子，表示某種關係的詞。
2. 連詞可以表示並列、承接、轉折、因果、選擇、假設、比較、讓步等關係。

(二) 練習

把下列句子中，底下有雙橫線的連詞，把與正確關係類別所代表的英文字母填在方格內。

例： 爸爸和我經常到公園散步。

A

A. 並列 B. 轉折 C. 讓步

1. 如果今天下雨，就不會外出踏單車。

A. 比較 B. 承接 C. 選擇

2. 雖然努力地練習，卻沒有在比賽取得冠軍。

A. 轉折 B. 讓步 C. 假設

3. 原來小明是棋藝高手，怪不得棋藝相當了得。

A. 選擇 B. 比較 C. 因果

4. 儘管他已經坦白承認錯失，但得不到同學們的原諒。

A. 比較 B. 讓步 C. 選擇

Class: P.4 ()

Grade: _____

Name : _____ ()

Date : 23rd April, 2020

Learning focus: Understand notices (Refer to Longman Elect Reading 4B p.45)

Read the notice and answer the following questions.

Keep Hong Kong Healthy Campaign

Writing Competition

description of the event We are inviting young people to enter our writing competition.
This year's theme is 'Keeping good habits for a lifetime'.

Categories

- Ages 6 to 12 : 150– 200 words
- Ages 13 to 15 : 250– 350 words
- Ages 16 to 18 : 400– 500 words

How to enter

Send your entry to *Health First, 4/F Peace Building, 34 Nathan Road, Tsim Sha Tsui* on or before 10th June.

Rules

- 1 You must live in Hong Kong.
- 2 Each person can only send in one entry.

Prizes

- 1st Prize**
1-year subscription to *Junior Post* and \$1,500 book coupon
- 2nd Prize**
\$800 book coupon
- 3rd Prize**
\$500 book coupon
- 10 Merit Prizes**
\$100 book coupon

For more information, please contact Mandy Ching on 2345 6789.

person to contact

Results will be announced on 20th July.

Organiser: **HF Health First**

Answer the questions.

- 1 The purpose of this notice is to tell people about _____.
- A. the *Keep Hong Kong Healthy Campaign* B. keeping good habits
- C. a writing competition D. Health First

2 Molly is fourteen years old. She is writing a story for the competition. How many words should she write?

3 If Molly wins the second prize in the competition, what will she get?

4 You entered the competition. When will you know if you win a prize?

興德學校

4月23日 四年級 數學科工作紙

4下A冊 十一. 同分母分數減法

姓名： _____ () 成績： _____

班別： _____ 日期： 23-4-2020

計算下列各題。(以最簡分數作答)

1 $\frac{17}{45} - \frac{13}{45} =$ _____

2 $2\frac{23}{50} - 1\frac{19}{50} =$ _____

3 $5\frac{9}{32} - \frac{15}{32} =$ _____

4 $14 - 4\frac{33}{62} =$ _____

5 $\frac{47}{60} - \frac{23}{60} - \frac{11}{60} =$ _____

6 $29 - 5\frac{15}{16} - 2\frac{13}{16} =$ _____

依指示找出符合的算式，在橫線上填寫代表算式的英文字母。

A. $16 - 15\frac{1}{7}$

B. $11\frac{5}{9} - 4\frac{5}{9}$

C. $56\frac{1}{8} - 55\frac{5}{8}$

D. $7\frac{3}{11} - 6\frac{2}{11}$

E. $1\frac{7}{15} - \frac{13}{15}$

F. $14\frac{2}{13} - 11\frac{5}{13}$

G. $22\frac{7}{20} - 19\frac{3}{20}$

H. $16 - 13\frac{2}{41}$

I. $27\frac{1}{2} - 26$

7 結果是整數的算式有： _____

8 結果比1小的算式有： _____

9 結果在3和4之間的算式有： _____

興德學校

4月23日 四年級 常識科工作紙

第五冊 第五課 廢物污染


姓名： _____ ()

成績： _____

班別： _____


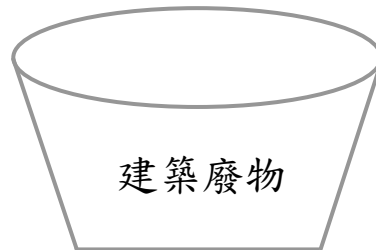
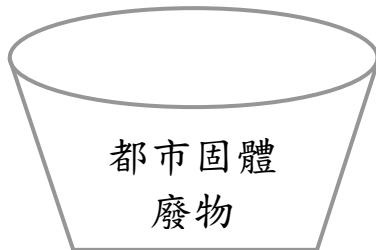
日期： 23-4-2020

(一) 練習

甲. 試把以下的廢物分類，把答案的代表字母填在  內。

廢物的種類

A. 家居廚餘	B. 報紙	C. 舊文件	D. 製衣布碎
E. 豬隻屍體	F. 使用過的針筒	G. 含水銀燈管	
H. 竹棚	I. 瓦礫	J. 舊衣	K. 污水廠污泥
L. 疏浚淤泥			



乙、以上哪些廢物會被運往堆填區？把答案的代表字母填上。

