

興德學校

4月21日 一年級 中文科工作紙

實用文寫作：感謝卡

姓名：_____ ()

成績：_____

班別：_____

日期：21-4-2020

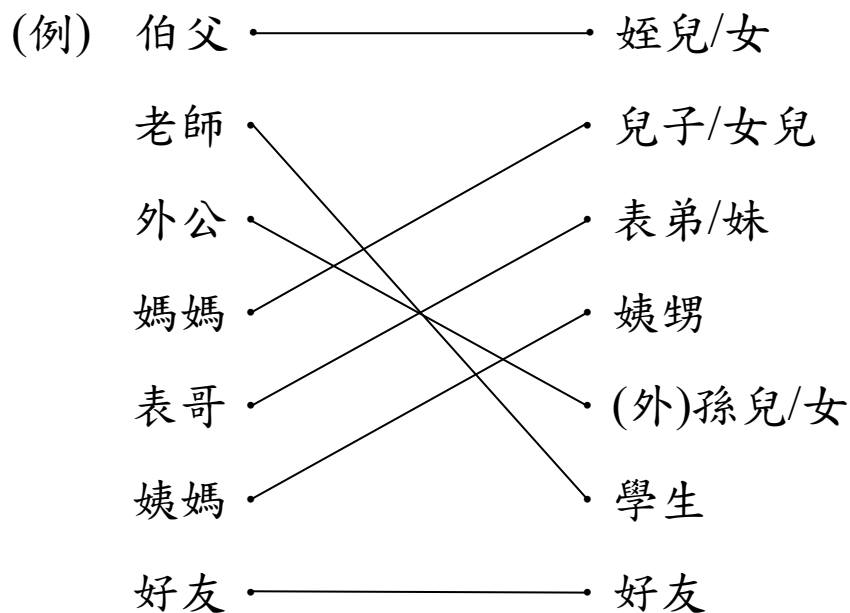
| 學習重點： | 已能掌握 | 部分掌握 | 未能掌握 |
|---------|--------------------------|--------------------------|--------------------------|
| 能掌握感謝卡。 | <input type="checkbox"/> | <input type="checkbox"/> | <input type="checkbox"/> |

感謝卡範文：

題目：昨天，你的表姐小玉教你畫畫，請你以小天的身份寫一張**感謝卡**送給她。

| | |
|---|------------|
| 親愛的小玉表姐： 感謝你昨天來我家教我畫比卡丘， 爸媽都說畫得很漂亮。謝謝。 表弟 小天 四月十一日 | 上款(收卡人) |
| | 正文(感謝她教導) |
| | 下款(自稱及送卡人) |
| | 日期 |

一、請把親友的稱謂與自稱用直線連起來。



二、請把格式名稱填入 內。

上款 下款 日期 正文

| | |
|---------------------------------|----|
| 親愛的外婆: | 上款 |
| 上星期我病倒了，感謝你的悉心照顧，讓我早日康復。真的十分感謝。 | 正文 |
| 外孫女 | 下款 |
| 麗麗 | |
| 四月一日 | 日期 |

Hing Tak School
P.1 English Worksheet (44)

Answer keys

Class: P.1 ()

Grade : _____

Name: _____ ()

Date : 21st April, 2020

What toys can you see? Write.



1 a doll 2 a ball 3 a gun

4 a robot 5 a car 6 a train

7 a plane 8 a teddy bear

(*an aeroplane* is also acceptable)



興德學校

4月21日 一年級 數學科工作紙
1下B冊 二十二. 長度的量度(二)

答案

姓名：_____ ()

成績：_____

班別：_____


日期：21-4-2020


(一) 填填看：

1. 用一條小繩子來幫助量度下列物件的長度。



約 14 厘米

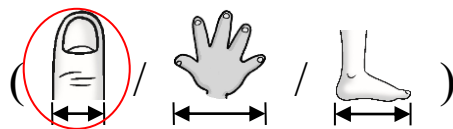
2. 子軒的  長約 1 厘米，他量度了首日封的長度。



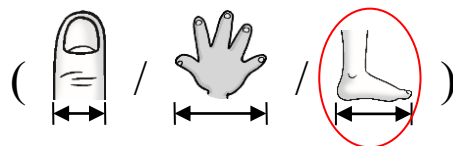
這個首日封長約 16 厘米。

(二) 圈出正確的答案。




3. 要量度手提電話的長度，適宜用哪一項作量度工具？



4. 要量度課室走廊的長度，適宜用哪一項作量度工具？






(三) 圈出最適當的量度工具。


5. 我會用 ( /  / )

來量度圓罐周圍的長度。



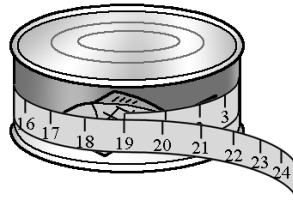
6. 我會用 ( /  / )




來量度圓罐周圍的高度。



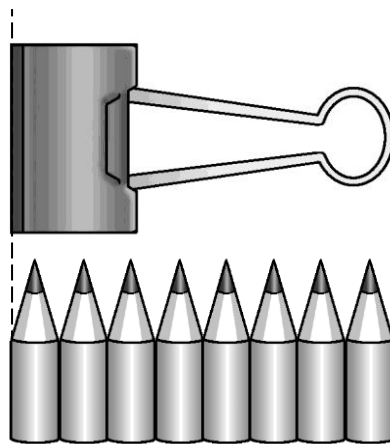
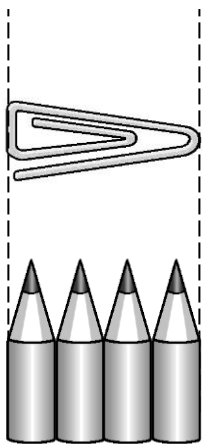
(四) 看圖回答問題。

7.



用軟尺圍繞以上兩個罐頭一圈，量得  一圈的長度比  的 * 長 /  2 cm。(* 圈出答案)

8.



如果  的長度是 3cm， 長 6 cm。

興德學校

4月21日 一年級 常識科工作紙(答案)

第四冊 第五課 公園裏的植物

姓名：_____ ()

成績：_____

班別：_____

日期： 21-4-2020

1. 以下哪些是香港動植物公園裏的植物？正確的在 () 內加「✓」；不正確的加「✗」。

A. 洋紫荊



(✓)

B. 秋茄樹




(✗)

C. 竹樹



(✓)

D. 睡蓮



(✓)

2. 選出適當的字詞填在 _____ 上。

| | | |
|----|-----|----|
| 心形 | 喇叭狀 | 睡蓮 |
| 黃蟬 | 大紅花 | 茶花 |

(1) 大紅花的花朵呈 喇叭狀 。


(2) 黃蟬 的葉子形狀是橢圓形的。

(3) 洋紫荊的葉子是 心形 的。

(4) 大紅花 的葉邊有鋸齒。

(5) 睡蓮 的葉呈圓形，並浮在水面上。

3. 根據以下情境，把答案圈起來。



(1) 圖中植物 A 的名稱是甚麼？

(木棉花 / 大紅花 / 睡蓮)

(2) 圖中植物 B 的葉子是怎樣的？

(葉呈心形 / 葉呈卵形，葉邊有鋸齒 / 線形)

(3) 圖中兩位小朋友都在觀察植物，誰做得不對？

(子健 / 洋洋)