

興德學校

4月17日 一年級 中文科工作紙

一下二 單元六

姓名：_____ ()


成績：答案版

班別：_____

日期：17-4-2020

單元五 聆聽理解

細心聆聽話語內容，然後回答第1—6題。

 1 下列哪一個是姐姐對大海的想像？

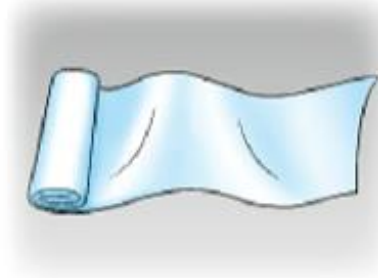
TSA



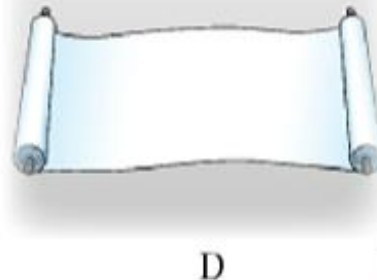
A



B




C



D

C


 2 根據話語內容，智樂認為大海有下列哪一項特點？

TSA

- A 會引起微微的波浪
- B 會輕輕地拍打大石
- C 會發出閃耀的光芒
- D 會發出巨大的聲響




D

 3 凱琪認為大海像甚麼？

TSA

- A 寶箱
- B 寶石
- C 金光
- D 愛發脾氣的老伯伯

A

 4 為甚麼姐姐說夜裏的海水不是墨水？

TSA

- A 因為海水是深藍色的。
- B 因為月亮掉進海裏時會發光。
- C 因為月亮和星星都被海水染上藍色。
- D 因為月亮和星星都沒被海水染上黑色。


D

 5 根據話語內容，誰害怕黑夜中的大海？

TSA

- A 姐姐
- B 智樂
- C 凱琪
- D 沙灘上的小孩

B

 6 下列哪一項符合話語內容？

TSA

- A 這天的浪花很大。
- B 「我們」常常到沙灘玩。
- C 沙灘上只有「我們」三人。
- D 太陽使海水變得金燦燦的。

D

Hing Tak School

P.1 English Worksheet (42)

Answer Key

Class: P.1 ()

Grade : _____

Name: _____ ()

Date : 17th April, 2020

Learning focus: Present continuous tense

Joe is writing an e-mail to his friend Ann. Complete the e-mail with the correct form of the given verbs. Use the present continuous tense.

The screenshot shows an email client window with the following details:

- To:** annl@coolmail.com
- From:** joec@schoolmail.com
- Body:**

Dear Ann,
How are you?
Here are some photos.
Look at Photo 1! You ① are eating (eat). I ② am drinking (drink).
Flora and Carol are happy. They ③ are laughing (laugh).
Look at Photo 2. You ④ are reading (read). The cats
⑤ are sleeping (sleep). Lily and I are friends. We ⑥ are playing
(play).
Write soon!
Joe

Photo 1: A group of four children sitting at a table eating. Labels: Ann (girl eating), me (boy eating), Flora (boy standing), Carol (girl standing). A ① is in the top left corner.

Photo 2: A girl reading a book and two boys playing with blocks. Labels: Ann (girl reading), Lily (girl playing), me (boy playing). Two cats are sleeping on a table above. A ② is in the top left corner.

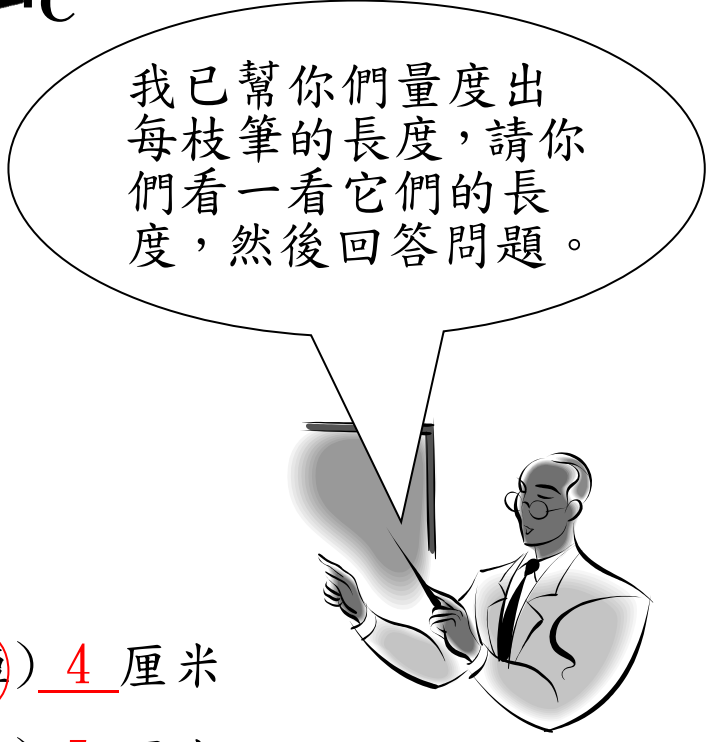
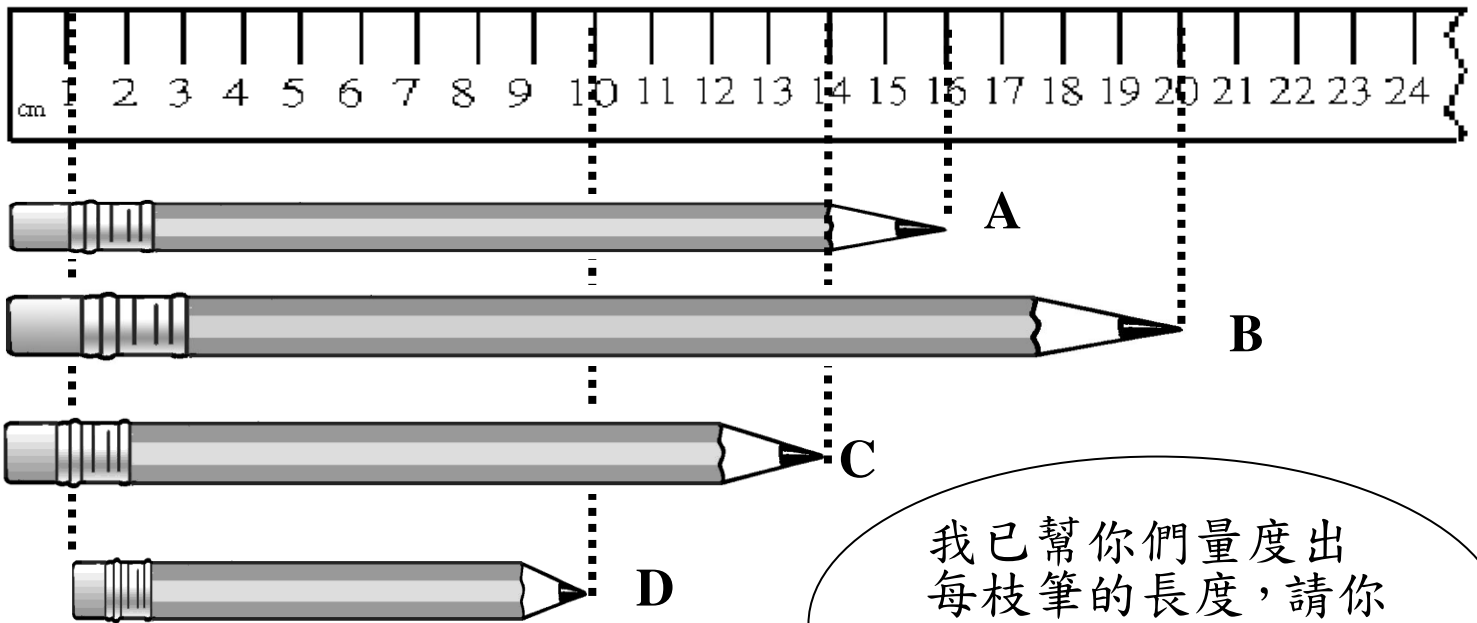
姓名：_____ ()

成績：_____

班別：_____

日期：17-4-2020

(一)看圖填充。




我已幫你們量度出每枝筆的長度，請你們看一看它們的長度，然後回答問題。

1. A 鉛筆約 16 厘米
2. B 鉛筆約 20 厘米
3. C 鉛筆約 14 厘米
4. D 鉛筆約 9 厘米
5. A 鉛筆比 B 鉛筆 (長 / 短) 4 厘米
6. C 鉛筆比 D 鉛筆 (長 / 短) 5 厘米

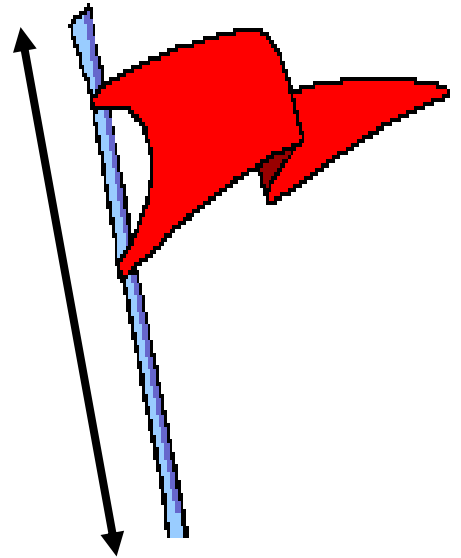
(二)請正確量度下列物品的長度。

7.



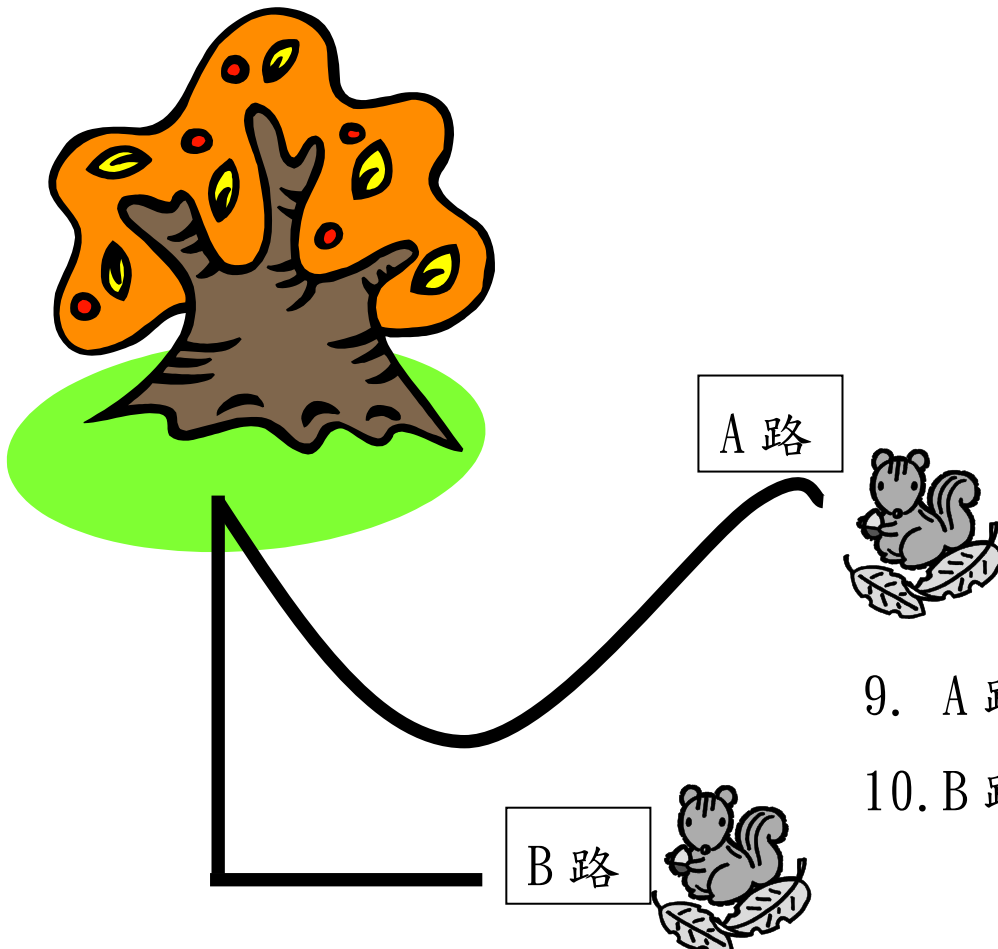
約 11 厘米

8.



約 7 厘米

(三)小松鼠要回家，請小朋友用繩子和厘米尺量度小松鼠所走的路線。



9. A路長約 11 cm

10. B路長約 8 cm

興德學校

4月17日 一年級 常識科工作紙(答案)

第四冊 第五課 公園裏的植物

姓名：_____ ()

成績：_____

班別：_____


日期：17-4-2020

1. 以下哪些植物生長在水中？哪些生長在陸地？把適當的英文字母填在 () 內。

A. 蘭花




B. 氣球花



C. 水仙



D. 睡蓮



(1) 生長在水中的植物 (C、D)

(2) 生長在陸地的植物 (A、B)

2. 以下哪些植物生長在水中？哪些生長在陸地？把適當的英文字母填在 () 內。

A.



B.



C.



D.



(1) 愛護植物的行為 (D)

(2) 傷害植物的行為 (A、B、C)

3. 把以下的植物區與相關的植物配對。把適當的英文字母填在 _____ 上。(答案可多於一個。)

- | | |
|-----------|---------|
| (1) 玉蘭園 | A. 洋紫荊。 |
| (2) 溫室 | B. 茶花。 |
| (3) 茶花園 | C. 金銀花。 |
| (4) 藥用植物園 | D. 豬籠草。 |
| (5) 紫荊花園 | E. 捕蠅草。 |
| | F. 玉蘭。 |

1. F 2. D、E 3. B


4. C 5. A

4. 把以下植物與它們的名稱配對。把適當的代表字母填在 () 內，並在不適用的 () 內加「×」。


A.



B.



C.



D.



- (1) 大紅花 (**A**)
 (2) 氣球花 (**B**)
 (3) 鶯歌鳳梨 (**×**)
 (4) 拖鞋蘭 (**D**)
 (5) 狗尾紅 (**C**)