

姓名：_____ ()

成績：_____ 教師版

班別：_____

日期：_____ 四月六日

小二下 第一冊 單元五 第十課《親子運動會》

1. 根據篇章各段的段落大意，在____上填寫正確的答案。

段落	段落大意
第一段	指出「我」的爸爸和媽媽參加學校的 <u>親子運動會</u> 。
第二至三段	記述同學 <u>杜偉祥</u> 跟「我」的 <u>爸爸</u> 打招呼，並告訴爸爸他的父母無法參加 <u>運動會</u> 的原因。



第四至五段	記述「我」的爸爸提出跟 <u>偉祥</u> 組隊出賽，而「我」則提出跟 <u>媽媽</u> 組隊。
第六至七段	記述「我」為 <u>偉祥</u> 贏得比賽而 <u>高興</u> ，並寫了一張 <u>賀卡</u> ，準備送給他。

2. 閱讀篇章後，在___上填寫課文主旨。

課文主旨	
<p>通過記述 <u>偉祥</u> 的父母無法參加親子運動會，「我」的 <u>爸爸</u> 提議跟 <u>偉祥</u> 組隊參賽並贏得比賽的事，帶出助人為 <u>快樂</u> 之本的道理。</p>	



Class : P2 ()

Grade: _____

Name: _____ ()

Date: 6th April, 2020

Practice (refer to Longman Elect 2B p.43)

Mike is asking his friends about the season they like best. Finish what they say with the given words.

spring	summer	warm	cool	go hiking	go to the beach
autumn	winter	sunny	cold	go to the park	eat hotpot



Mike : Which season do you like best?

Kelly : I like winter best. It's cold.


I usually eat hotpot.



Mike : Which season do you like best?

May : I like summer best. It's sunny. I usually

go to the beach.



Mike : Which season do you like best?

Tommy : I like spring best. It's warm.

I usually go to the park.



Mike : Which season do you like best?

Paul : I like autumn best. It's cool.

I usually go hiking.

2下B冊 十五. 分物遊戲二

姓名： _____ () 成績： 答案

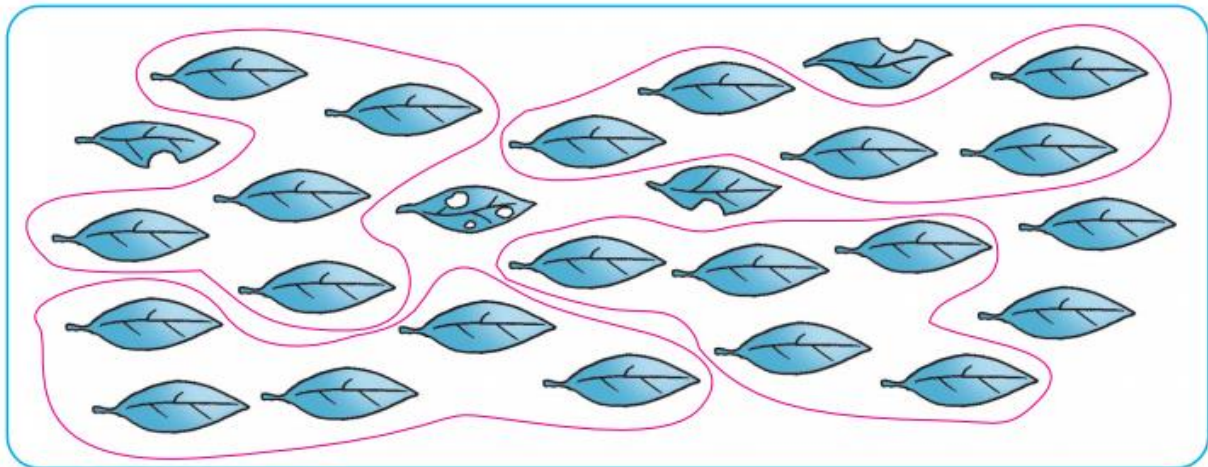
班別： _____ 日期： 6-4-2020

(一) 練習

夜明花的葉子

小女巫在製作夜明花，她正為夜明花加添綠葉子。

依指示圈一圈、填一填。




或其他合理圈法



每一朵夜明花，都有 5 塊綠葉子伴襯着。

- 1 如果綠葉子有破損，不會被放在夜明花上，以上的綠葉子，可伴襯着 4 朵夜明花。(把葉子分組圈出)
- 2 要製作多一朵夜明花，最少要多 3 塊完好的綠葉子。

依指示完成下列各題。



小女巫把 23 朵夜明花帶到魔法學校，送給學生。

- 3 如果每班 1 朵，可分給 23 班。
- 4 如果每班 2 朵，可分給 11 班。
- 5 如果每班 3 朵，可分給 7 班。
- 6 如果每班 4 朵，會餘下 3 朵夜明花。
- 7 如果要分給 10 班，而每班有 3 朵夜明花，小女巫需要多 7 朵夜明花。
- 8 小女巫應怎樣分，才可使每班不多於 7 朵夜明花，而餘下 2 朵夜明花？
每班 3 朵，分給 7 班。或每班 7 朵，分給 3 班
- 9 小女巫應怎樣分，才可使每班不少於 5 朵夜明花，而餘下 3 朵夜明花？
每班 5 朵，分給 4 班。或每班 10 朵，分給 2 班；
每班 20 朵，分給 1 班



興德學校

4月6日 二年級 常識科工作紙 (答案版)

第六冊 第一課 中國歷史知多少-原始村落

姓名：_____ () 成績：_____

班別：_____ 日期：_____

(甲) 簡答題：

1. 請舉出兩個我們祖先的生活方式的例子？

參考答案：可以耕種、可以製作簡單的陶瓷

、可以圈養牲畜

2. 書中所指的原始部落時期，距離今天有多少年的歷史？

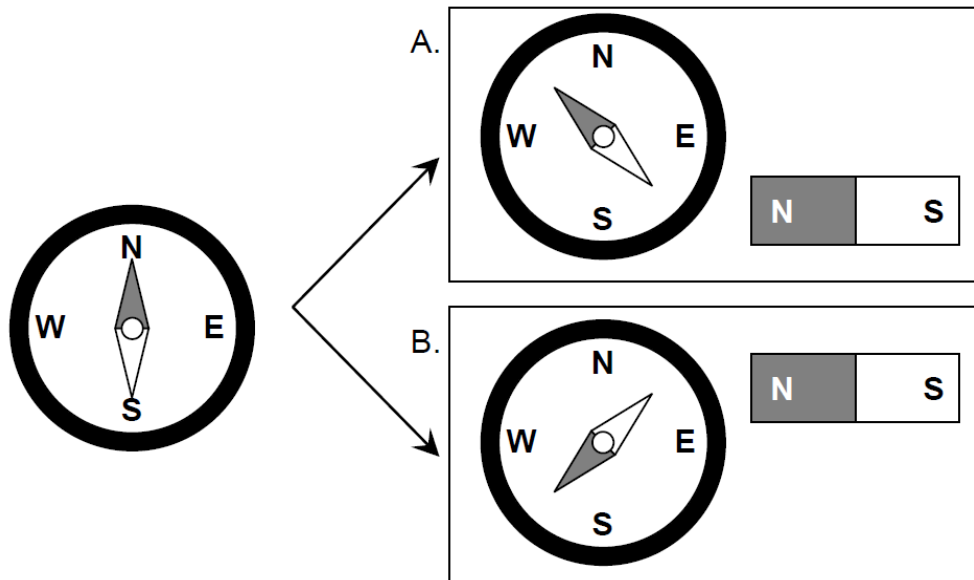
約五千年的歷史

3. 原始部落時期，甚麼是人類的主要食物？

野生果實及野生動物。

(乙) 實驗圖片題：根據下列實驗，回答問題。

把指南針放在磁鐵的北極旁邊，觀察指南針所指的方向。以下是實驗結果：



1. 當兩個磁鐵的相同磁極靠近時，會有甚麼現象發生？把答案圈起來。
(它們會相吸 / 它們會相拒)
2. 以上結果，證明了指南針的指針是哪種物料？把答案圈起來。
(含磁性的金屬 / 不含磁性的金屬)
3. 根據上述結果，繪畫下圖中指南針內的指針。

