

興德學校

4月2日 四年級 中文科工作紙

四下二冊 單元五 第九課：小木船

姓名：_____ ()

成績：_____

班別：_____

日期：_____ 四月二日

(一) 知識學習

1. 歎詞：「歎詞」主要用來表達不同的感情，一般放於句子的開頭，能獨立成句。
2. 借物抒情：通過物件抒發感情的手法，稱為「借物抒情」。

(二) 練習

甲、選出以下歎詞的語氣，在□內填寫代表的英文字母。

- | | |
|---|-------|
| A | 驚訝、詫異 |
| B | 高興、欣喜 |
| C | 難過、失意 |
| D | 憤怒、不滿 |
| E | 醒悟、了解 |
| F | 應答、同意 |

1. 唉，陳明走了。

C

2. 哼，陳明走了。

D

3. 嘻！陳明走了。

B

4. 咦！陳明走了？

A

5. 嗯，陳明走了。

F

6. 噢！陳明走了。

E

乙、根據課文內容，分析「我」怎樣借助小木船抒發感情，在_____上填寫正確答案。

涉及的事情

- 1 「我」和陳明都摔壞了對方的小木船，二人多年的友誼也因此破裂了。
- 2 陳明轉學前，重新弄了一隻精緻的小木船送給「我」作紀念。

對「我」的意義

陳明送給「我」的小木船代表着「我們」的友誼。

抒發的感情

藉着「我」珍藏的小木船，表達了「我」珍惜與陳明之間的友情。

Hing Tak School
P4 English Worksheet (35)
Answer Key

Class: P4 ()

Name: _____ ()

Grade: _____

Date: 2nd April, 2020

Learning focus: Understand the content of an ETV programme

Practice

Watch the ETV programme “Food from Other Countries” at the school website and answer the following questions. Blacken (●) the circle for the correct answer (for questions 1-2 & 4-9).






1. What happened to Benny? (You can choose more than one answer.)




- A. Benny’s mother left the family.
- B. Benny had no lunch.
- C. Benny was late for school.
- D. Benny’s father was too busy to cook lunch for Benny.

2. Ricky replied to Benny, “Oh, hamburger again?” How did Ricky feel?

- A. Excited.
- B. Angry.
- C. Shocked.
- D. Tired.

3. What pizza toppings do they like? Tick (√) the appropriate boxes.

		Benny	Belinda	Ricky	Mrs. Hughes
a.	 tomatoes		√		
b.	 tuna fish			√	
c.	 ham		√		
d.	 sausages	√			
e.	 cheese			√	

f.	 mushrooms				✓
g.	 pineapple slides	✓			
h.	 bacon				✓

4. What did the cook use for making sushi rolls? (You can choose more than one answer.)

- A. Crab meat. B. Eggs. C. Rice. D. Wasabi.
 E. Soy sauce. F. Vinegar. G. Cucumber. H. Seaweed.

5. Ricky likes _____ sushi best.

- A. tuna fish B. prawn C. raw salmon D. cucumber

6. What does Japan look like on the map?

- A. A book. B. A boat. C. A boot. D. A box.

7. Food Master prepared _____ food for Benny and his father.

- A. Italian B. Japanese C. American D. Korean

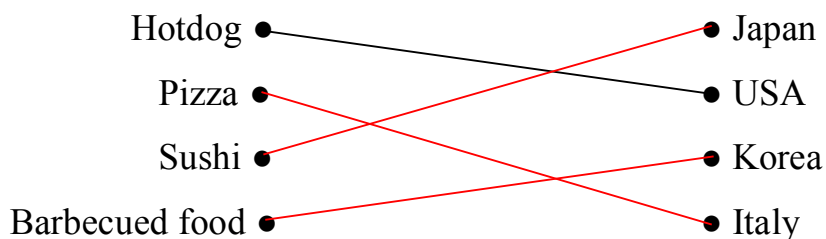
8. Why did Hughes's family want to have the Father's Day party at Benny's home?

- A. Benny's home was bigger than their home.
 B. They wanted Benny's father to join the party with them.
 C. Benny had nothing to eat.
 D. Benny wanted to have a Father's Day party.

9. Benny gave the Father's Day card to his dad in the _____.

- A. bathroom B. dining room C. kitchen D. bedroom

10. Match the types of food to the countries where they come from.



4下A冊 九. 分數的比較

答案



姓名： _____ ()

成績： _____

班別： _____

日期： 2-4-2020

(一)把適當的分數填寫在橫線上。



1. 以上各數中，比 $\frac{6}{8}$ 小的有 $\frac{1}{8}$ $\frac{17}{24}$ $\frac{6}{9}$ $\frac{11}{16}$ 。

2. 以上各數中，與 $\frac{6}{8}$ 相等的有 $\frac{18}{24}$ $\frac{3}{4}$ 。

3. 以上各數中，比 $\frac{6}{8}$ 大的有 $\frac{8}{6}$ $\frac{8}{8}$ $\frac{13}{8}$ $1\frac{1}{4}$ 。

(二)填填看。

4. 一盒曲奇餅，小麗取了 $\frac{1}{8}$ ，小欣取了 $\frac{1}{5}$ ，餘下的留給媽媽。

小麗和小欣兩人誰取得曲奇餅較多？

答案： 小欣 取得較多。

媽媽得曲奇餅佔全部的幾分之幾？

答案： $\frac{27}{40}$

(三) 圈圈看。

5. 以下哪些分數是 $\frac{4}{7}$ 擴分後的分數?

$$\frac{28}{49}$$

$$\frac{14}{8}$$

$$\frac{8}{28}$$

$$\frac{12}{21}$$

6. 以下哪些分數是 $\frac{18}{45}$ 約分後的分數?

$$\frac{36}{90}$$

$$\frac{6}{15}$$

$$\frac{2}{5}$$

$$\frac{3}{9}$$

(四) 依指示把以下各分數填入適當的空格內。

7. $\frac{9}{7}$ $\frac{15}{1}$ $4\frac{3}{8}$ $\frac{12}{71}$ $\frac{31}{6}$ $\frac{9}{11}$ $9\frac{7}{80}$ $\frac{28}{28}$ $3\frac{4}{7}$

真分數

$$\frac{12}{71} \quad \frac{9}{11}$$

帶分數

$$4\frac{3}{8} \quad 9\frac{7}{80} \quad 3\frac{4}{7}$$

假分數

$$\frac{9}{7} \quad \frac{15}{1} \quad \frac{31}{6} \quad \frac{28}{28}$$

興德學校

4月2日 四年級 常識科工作紙

第五冊 第三課 香港的氣候 (答案版)

姓名： _____ () 成績： _____

班別： _____ 日期： 2-4-2020

(一) 練習

甲. 填充題: 把答案填在 _____ 上。

1. 香港位於 亞熱帶，氣候大致 溫和。
2. 我們通常利用 六 種天氣因素來形容天氣狀況。
3. 氣溫是指天氣溫暖或寒冷的 程度。
4. 春季的天氣溫暖 潮濕，經常有 霧 和毛毛雨。
5. 夏天氣炎熱潮濕，間中有 驟雨 和 雷暴。

乙. 配對題: 選出適當的英文字母填在 _____ 上。

香港的四季是怎樣劃分的？

- | | |
|-------|--------------|
| 1. 春季 | A. 十二月至次年二月。 |
| 2. 夏季 | B. 十月至十一月。 |
| 3. 秋季 | C. 五月至九月。 |
| 4. 冬季 | D. 三月至四月。 |
| | E. 六月至八月。 |

1. D 2. C 3. B 4. A