

興德學校

五年級 中文科 工作紙

五下一 單元三 第五課 《會捕食的植物》

姓名：_____ () 成績：_____

班別：_____ 日期： 2-4-2020

一 從課文中找出適當的詞語，填寫在_____上。


蛇是無足爬蟲類動物的總稱，體型_____，全身佈滿光滑的鱗片，而大多數顏色_____的蛇都是含有劇毒。目前全球共有三千多種蛇類，而學界已普遍認為蛇類與蜥蜴類都是同一個祖先。

毒蛇主要以尖銳的前齒_____毒素，並注入獵物的體內，令牠們失去反抗能力。毒蛇在捕捉獵物方面都常採用的方式，例如青竹蛇全身翠綠，長時間靜止不動與四周樹葉融為一體，當獵物靠近，就會突然縱身一咬便成功捕捉獵物。而響尾蛇身上的淺棕色讓牠們得以隱藏於沙堆之中，並以抖動的尾巴來_____獵物，這些捕獵手法都令人_____。

蛇的另一個特徵是顎部能作出廣角度的開合，牠們能吞食比自己體型龐大的獵物，那些無毒的蛇主要以身體擠壓獵物使牠致死。進食後，蛇會進入短暫的休眠狀態，靜待身體_____食物，而腸臟會保存食物的_____並轉化成能量，這個過程一般都需要花上兩天才能完成。

二 依照圖意，運用「為了……」的句式，完成句子。

1



為了買下心愛的模型
車，

2



為了保持環境清潔衛
生，

3



為了保持良好的心情，

4



為了種植出優質的稻
米，

三 下面的句子中，應該分別填入哪一個最適當的詞語？選出正確的答案。

1 爸爸在外地公幹，趕不及回家跟我們歡度中秋節，大家的（ ）落空了，不禁有點失落。

- A 期間
- B 期望
- C 期限
- D 期許

2 明天是全家到野外燒烤的日子，媽媽寫了一張長長的購物清單，避免購買食物時有所（ ）。


- A 遺忘
- B 遺棄
- C 遺留
- D 遺漏

3 這首詩歌主要表達詩人為了驅逐敵人，甘願為國捐軀的志向，情感慷慨（ ），令人十分感動。

- A 激憤
- B 激動
- C 激昂
- D 激進

4 永熙在辯論比賽中表現出色，每次發言總是一針見血，（ ）迫人，所以得獎無數。

- A 氣勢
- B 氣息
- C 氣氛
- D 氣質



Hing Tak School
P5 English Worksheet (35)

Class: P5 ()

Grade: _____

Name: _____ ()

Date: 2nd April, 2020


Learning focus: Revision on questions


Little Red Riding Hood is in the forest. Complete her conversation with Mr Wolf with the correct words. You can use some of the words **more than once**.


How	How far	How long	What	Who	Whose	Why
-----	---------	----------	------	-----	-------	-----





 : Excuse me. ❶ _____ is it from here to the forest?

 : It's a long way. It's four kilometres.

 : Oh! That's very far away. ❷ _____ does it take to walk to the forest?

 : It takes around one and a half hours. ❸ _____ do you want to go there?


 : Because I want to visit my sick grandma. She lives there. ❹ _____ do I get there?

 : First walk along the river. When you see the big apple tree, turn right. Then you'll see a big garden. You can pick some flowers there and give them to your grandma. Walk through the garden and you'll see the forest.


 : Thank you! ❺ _____ is it from here to the apple tree?


 : It's two kilometres from here.


 : ❻ _____ should I do if I get lost?


 : Don't worry. Let me walk with you.


 : Thank you, Mr Wolf. You're so kind.

 : ❼ _____ coat is that in your basket? It looks nice.

 : It's Mum's gift for Grandma.

 : ❽ _____'s the lady in the red dress? She's waving at us.

 : Oh! That is Mum. Mum ...

 : Oh ... hmm ... I think I have to go now. Bye!

興德學校

4月2日 五年級 數學科工作紙

5下A 九. 分數除法(二)

姓名：_____ ()

成績：_____

班別：_____

日期：_____ 2-4-2020

(1) 練習

<p>例.</p>	$\frac{1}{2} \div \frac{1}{3} \div \frac{2}{3}$ $= \frac{1}{2} \times \frac{3}{1} \times \frac{3}{2}$ $= \frac{1 \times 3 \times 3}{2 \times 1 \times 2}$ $= \frac{9}{4}$ $= \underline{\underline{2\frac{1}{4}}}$	
<p>1.</p>	$\frac{1}{3} \div \frac{2}{3} \div \frac{3}{4}$	<p>2.</p> $\frac{1}{4} \div \frac{3}{4} \div \frac{2}{5}$
<p>3.</p>	$2 \div \frac{3}{4} \div \frac{4}{9}$	<p>4.</p> $\frac{3}{5} \div 3 \div \frac{9}{10}$

5.	$\frac{5}{6} \div \frac{5}{24} \div 4$	6.	$1\frac{6}{7} \div \frac{8}{9} \div \frac{13}{14}$
7.	$\frac{8}{9} \div 2\frac{7}{8} \div \frac{16}{23}$	8.	$\frac{41}{84} \div 3\frac{5}{12} \div 4\frac{9}{14}$

興德學校

4月2日 五年級 常識科工作紙

第六冊 第一課 飛越太陽系

姓名： _____ ()

成績： _____

班別： _____

日期： 2-4-2020

(可參考第六冊課本p. 5-7)

(一) 填充題：選出適當的字詞填在 _____ 上。

1. 太陽系有 _____ 大行星，它們都圍繞太陽運行。
2. 八顆行星和它們的 _____，連同太陽是組成太陽系的主要星體。
3. 在太陽系以外，有很多類似太陽的恆星會發出 _____，部分更是我們可以看見的。
4. 八大行星按它們與太陽的距離，由近至遠分別是水星、金星、地球、火星、木星、土星、 _____ 及 _____。

(二) 配對題：把適當的代表字母填在 _____ 上。

5. 把以下的星球與相關的描述配對。


- | | |
|--------|------------------------|
| 1. 太陽 | A. 行星，是八大行星中距離太陽最遠的一顆。 |
| 2. 月球 | B. 恆星，會發光。 |
| 3. 海王星 | C. 恆星，它的光來自太陽光。 |
| 4. 木星 | D. 衛星，圍繞地球運行。 |
| | E. 行星，是八大行星中最大的一顆。 |

1. _____ 2. _____ 3. _____ 4. _____

(三) 看圖配對題：把適當的代表字母填在 () 內，並在不適用的 () 內加 x。

6. 把以下星體的名稱配對。


A.




B.



C.



D.



1. 地球 ()
2. 木星 ()
3. 水星 ()
4. 土星 ()
5. 太陽 ()

(四) 看圖分類題：把答案的代表字母填在 () 內。



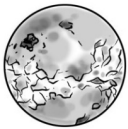
7. 以下哪些星體較地球接近太陽？哪些較比地球遠離太陽？

A. 金星

B. 水星

C. 海王星

D. 天王星



1. 較地球接近太陽 ()
2. 較地球遠離太陽 ()